



Игровое задание №1 " Найди пропущенные фигуры"

Предложите ребёнку рассмотреть фигуры в первом, во втором ряду, и назвать или нарисовать недостающие фигуры в третьем ряду.




Ребёнок выполняет похожее задание с человечками.




Игровое задание №2 «Нарисуй соседей числа»

Предложите ребёнку обозначить соседей заданного числа точками или цифрами. Например, в домике с числом 5 – нарисовать 4 и 6 точек.




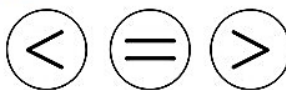
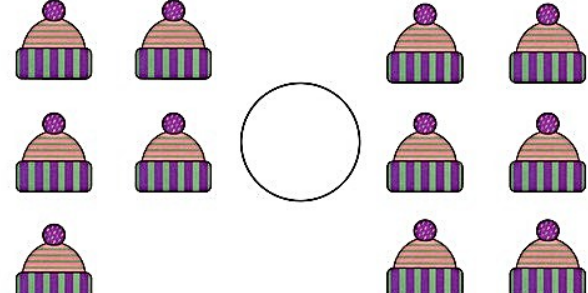
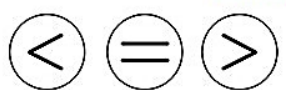



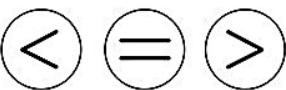
Игровое задание №3 «Сосчитай ноги»

Ребёнок считает ноги животного и соединяет картинку с соответствующей цифрой.



Игровое задание №4 «Сосчитай и поставь знаки»

Предложите ребёнку сосчитать предметы и поставить в кружке знак $<$, $>$, $=$.

Игровое задание №5 «Решите занимательные задачки»

Предложите ребёнку послушать внимательно сообщение и ответить на вопрос.

*Сколько ушей у трёх мышей?

*Сколько лап у двух медвежат?

*У семи братьев по одной сестре. Сколько всего сестёр?

*У бабушки Даши внучка Маша, кот Пушок и собака Дружок. Сколько всего внуков у бабушки?

*Над рекой летели птицы: голубь, щука, 2 синицы, 2 стрижа и 5 угрей. Сколько птиц? Ответь скорей!

*Горело 7 свечей. 2 свечи погасили. Сколько свечей осталось? (2, а остальные сгорели)

*В корзине три яблока. Как поделить их между тремя детьми так, чтобы одно яблоко осталось в корзине? (Дать двум детям по яблоку, а третьему ребёнку отдать одно яблоко вместе с корзиной).

*На берёзе три толстых ветки, на каждой толстой ветке по три тоненьких веточки. На каждой тоненькой веточке по одному яблочку. Сколько всего яблок? (Нисколько - на берёзе яблоки не растут.)

*У Миши три тележки разного цвета:

Красная, желтая и синяя.

Еще у Миши три игрушки: неваляшка, пирамидка и юла.

В красной тележке он повезет не юлу и не пирамидку.

В желтой - не юлу и не неваляшку.

Что повезет Мишка в каждой из тележек?

Игровое задание № 6

«Помоги зверятам отыскать свои праздничные хлопушки»



Игровое задание №7

«Соедини цифры с соответствующим количеством предметов»



1

2

3

4

5

6

7

8

9

10

